

Môn: Toán 4

人教版小学数学六年级PPT课件

Bài: Giải bài toán có ba bước tính.

Người thực hiện: Phạm Thị Ly

Giáo viên trường Tiểu học Nguyễn Thị Bảy



KHỞI ĐỘNG






THU HOẠCH

CÀ RỐT


BẮT ĐẦU



1

Giá trị biểu thức $a \times 5$ với $a = 20$ là:

10



25

105




100

2

Công thức tính diện tích của hình chữ nhật là:



$S = a + b$
(a và b cùng đơn vị đo)



$S = a \times b$
(a và b cùng đơn vị đo)

$S = (a + b) \times 2$
(a và b cùng đơn vị đo)



$S = a + b \times 2$
(a và b cùng đơn vị đo)

3

Việt có 20 viên bi. Nam có nhiều hơn Việt 10 viên bi.
Hỏi cả hai bạn có bao nhiêu viên bi?

30 viên bi

40 viên bi

50 viên bi

60 viên bi



KHÁM PHÁ



Đội Một trồng được 60 cây,
đội Hai hơn đội Một 20 cây,
đội Ba ít hơn đội Hai 10 cây.

Làm thế nào để biết cả ba đội
trồng được bao nhiêu cây?



VIỆT



NAM

Bài toán cho biết những gì?



**Đội Một
trồng
được 60
cây.**

**Đội Hai
hơn đội
Một 20 cây.**

**Đội Ba ít
hơn đội
Hai 10 cây.**



Bài toán hỏi gì?



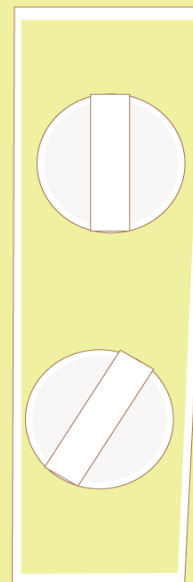

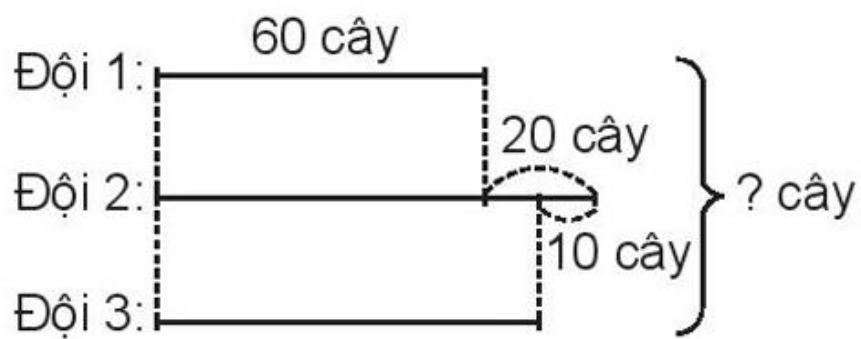
Làm thế nào để
biết cả ba đội
trồng được bao
nhiêu cây?





THẢO LUẬN NHÓM ĐÔI




TÓM TẮT





THẢO LUẬN NHÓM ĐÔI

Cách giải bài toán

-  Tìm số cây của đội Hai.
-  Tìm số cây của đội Ba.
-  Tìm tổng số cây của ba đội.





Bài giải

Số cây đội Hai trồng được là:

$$60 + 20 = 80 \text{ (cây)}$$

Số cây đội Ba trồng được là:

$$80 - 10 = 70 \text{ (cây)}$$

Số cây cả ba đội trồng được là:

$$60 + 80 + 70 = 210 \text{ (cây)}$$

Đáp số: 210 cây



HỌẠT ĐỘNG



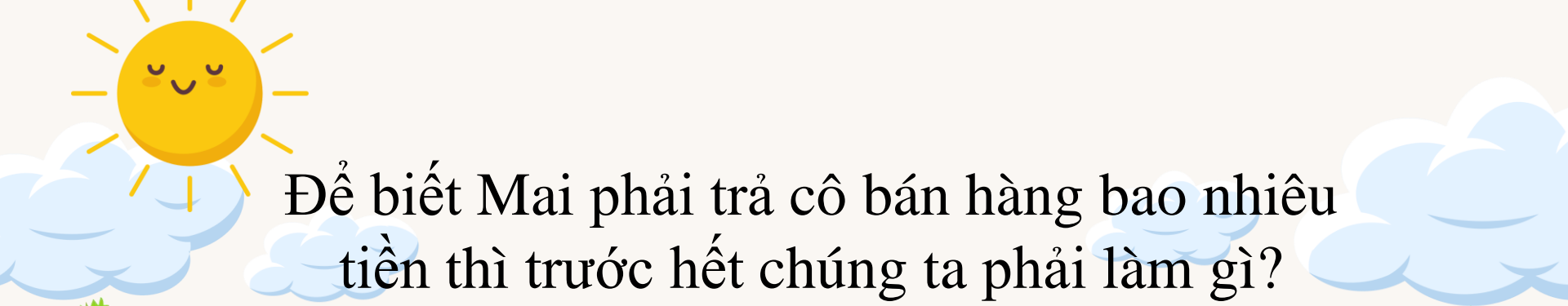
BÀI TẬP 1

Mai đến cửa hàng văn phòng phẩm mua 5 quyển vở, mỗi quyển vở giá 8 000 đồng và mua 2 hộp bút chì màu, mỗi hộp giá 25 000 đồng. Hỏi Mai phải trả cô bán hàng tất cả bao nhiêu tiền?

Hỏi - đáp với bạn để tìm hiểu bài toán

- G:** - Bài toán cho biết những gì?
- Bài toán hỏi gì?





Để biết Mai phải trả cô bán hàng bao nhiêu tiền thì trước hết chúng ta phải làm gì?



Tính giá tiền 5 quyển vở



Tính giá tiền 2 hộp bút chì màu



Làm việc
cá nhân



Bài 1. Mai đến cửa hàng văn phòng phẩm mua 5 quyển vở, mỗi quyển vở giá 8 000 đồng và mua 2 hộp bút chì màu, mỗi hộp giá 25 000 đồng. Hỏi Mai phải trả cô bán hàng tất cả bao nhiêu tiền?

Bài giải

Mai mua 5 quyển vở hết số tiền là:

$$8\ 000 \times 5 = 40\ 000 \text{ (đồng)}$$

Mai mua 2 hộp bút chì màu hết số tiền là:

$$25\ 000 \times 2 = 50\ 000 \text{ (đồng)}$$

Mai phải trả cô bán hàng tất cả số tiền là:

$$40\ 000 + 50\ 000 = 90\ 000 \text{ (đồng)}$$

Đáp số: 90 000 đồng



BÀI TẬP 2

Chia 40 quả táo vào các túi, mỗi túi 8 quả và chia 36 quả cam vào các túi, mỗi túi 6 quả. Hỏi số túi táo hay túi cam có nhiều hơn và nhiều hơn mấy túi?

Thảo luận nhóm 4





BÀI GIẢI:

Số túi táo là:

$$40 : 8 = 5 \text{ (túi)}$$

Số túi cam là:

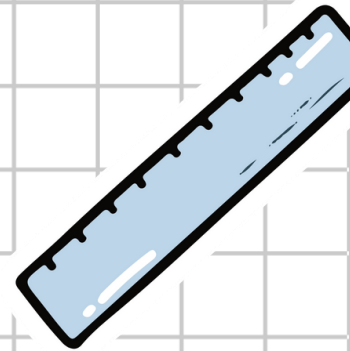

$$36 : 6 = 6 \text{ (túi)}$$

Số túi cam nhiều hơn số túi táo và nhiều hơn là:

$$6 - 5 = 1 \text{ (túi)}$$

Đáp số: 1 túi.

VẬN DỤNG



Đọc hai bài toán sau và cho biết bài toán nào giải bằng ba bước tính

Bài toán 1: Sư tử nặng 96kg, hổ nhẹ hơn sư tử 5kg. Hỏi cả hai con cân nặng bao nhiêu ki-lô - gam?

Bài toán 2: Sư tử nặng 96kg, hổ nhẹ hơn sư tử 5kg nhưng nặng hơn báo gấm 8kg. Hỏi cả ba con cân nặng bao nhiêu ki-lô-gam?

Đọc hai bài toán sau và cho biết bài toán nào giải bằng ba bước tính

Bài toán 2: Sư tử nặng 96kg, hổ nhẹ hơn sư tử 5kg nhưng nặng hơn báo gấm 8kg. Hỏi cả ba con cân nặng bao nhiêu ki – lô - gam?

Lưu ý khi giải bài toán có ba bước tính.



1. Đọc kỹ đề, phân tích đề và tìm hướng giải bài toán



2. Viết lời giải và phép tính hoàn chỉnh



3. Đáp số chỉ ghi kết quả của bước tính thứ ba



4. Kiểm tra các bước giải



TẠM BIỆT

